

إعداد  
ذ.راجي نورالدين

الفرص الأول - الأسديس الثاني  
المستوى : الرابع ابتدائي  
2009

معهد الترقية الاجتماعية و التعليمية  
خريبكة

التمرين 1 (نقطتان)

ضع و أنجز ما يلي

$$127925 + 74858 =$$

$$897 \times 94 =$$

$$897 + 7 =$$

$$5890 \div 95$$

التمرين 2 (نقطة و نصف)

أحصر المقاسيم في كل قسمة ثم حدد عدد أرقام الخارج .

$$569 \div 10 \quad 4587 \div 9 \quad 987 \div 15$$

التمرين 3 (نقطة و نصف)

حول الى الوحدة المطلوبة

$$1\text{dm}3\text{cm}2\text{mm} = \quad \text{mm}$$

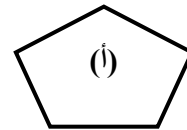
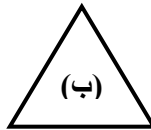
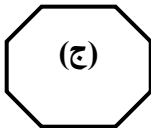
$$5\text{m}2\text{cm} = \quad \text{cm}$$

التمرين 4 (نقطتان)

تريد جمعية القراءة صرف 186 درهما لشراء قصص للقسم الرابع. ثمن الواحدة 7 دراهم. ماهو عدد القصص التي يمكن شراؤها؟

التمرين 5 (ثلاث نقط)

❖ لاحظ المضلعات ثم املا الجدول التالي بما يناسب



اسمه	عدد الأقطار	عدد الأضلاع	عدد الرؤوس	المضلع
				(أ)
				(ب)
				(ج)